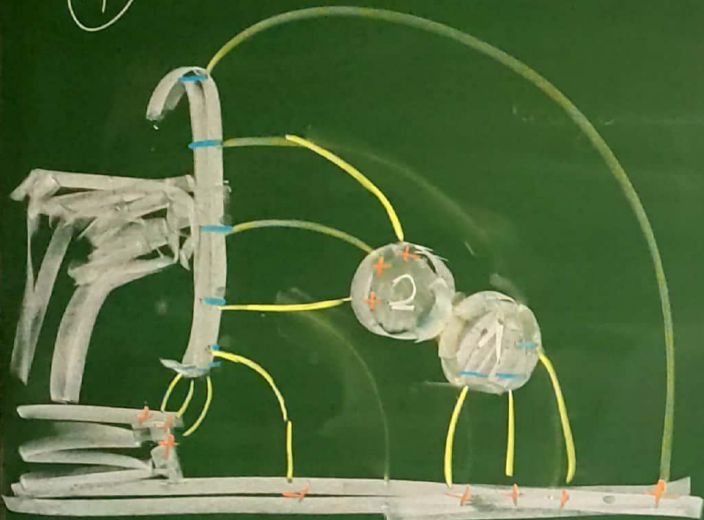



# Influenz

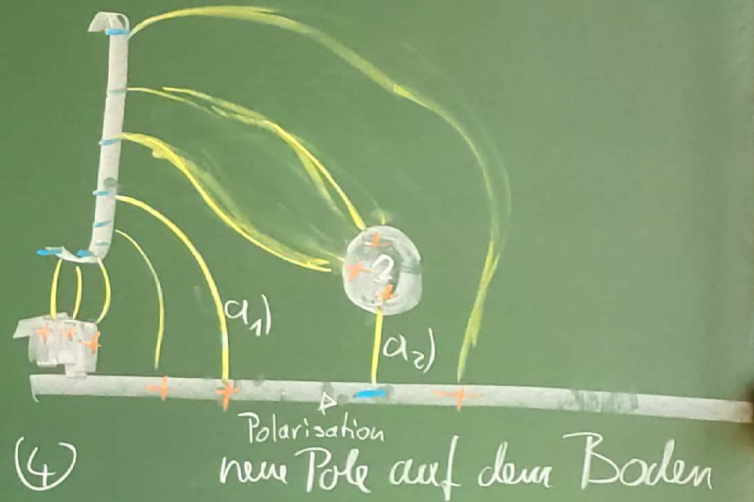
(1)



(2)



(3)

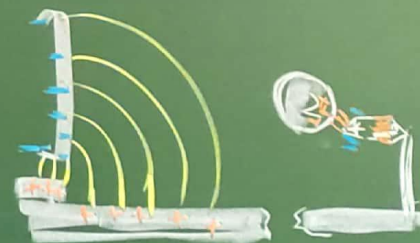


Polarisation durch Influenz

- ① Warum gehen die Feldlinien zu den Kugeln und was passiert zwischen Kugel 1+2?
- ② Inwiefern ist Kugel 2 geladen und nicht geladen?
- ③ Was ist mit Feldlinie a) geschehen?
- ④ Wie ist das Feld an der Platte?

Aufladung geschieht durch Polarisation und anschließender Vernichtung eines der Pole!

(4)



Feld ist wie vorher